

## INOVATKA ITV

Označenie pedagóga	Špeciálny pedagóg – Mgr. Eva Kuzmová	
Ročník	šiesty	
Predmet	Vlastiveda	
Tematický celok	Slovenská republika	
Učivo	Slovenská republika	
Cieľ	Upevniť učivo o Slovensku	
<b>Prvky ITV</b>		
Úloha číslo 1 – Po Slovenskej republike	Úloha číslo 2 – Poznáš Bratislavu?	Úloha číslo 3 – Štátne symboly

### POPIS AKTIVITY

#### Úloha číslo 1

Názov úlohy	Po Slovenskej republike
Učivo predmetu 1	Opakovanie a upevnenie učiva o Slovensku
Inovované didaktické pomôcky	Pracovný list
Názov prílohy	Slovensko
Popis úlohy	Učiteľ rozdá pracovné listy žiakom, vyzve na pozorné prečítanie zadania a sebahodnotenia po vypracovaní pracovného listu.

### PRÍLOHY

Príloha k úlohe 1	
<p><b>1 . Dopln' vetu tak, aby vznikla správna odpoveď</b></p> <p>1.Naša vlasť sa volá ..... a vznikla .....</p> <p>2. Slovensko leží v .....Európe .</p> <p>3. Územie Slovenska leží v ..... podnebnom pásme .</p> <p>4. Hlavne mesto Slovenska je ..... a sídli v nej .....</p>	

## 5 . Povrch našej vlasti tvoria tieto najznámejšie

### a) nížiny

- 
- 
- 

### b) pohoria

- 
- 
- 

### c) rieky

- 
- 
- 
- 
- 
- 
- 

### d) jazerá

- 
- 
-

**e) umelé vodné nádrže**

- 
- 
- 

6. Slovensko má rozvinutý priemysel : .....

.....

.....

7. Na území Slovenska sa pestujú .....

.....

..... a

chová sa .....

.....

8. Slovenská republika je ..... zaľudnená krajina , žije tu asi .....

..... obyvateľov.

9. Prezident Slovenskej republiky sa volá ..... a sídli v

.....

## 2. Farebne vyznač obdĺžniky, ktoré k sebe patria

**Južný sused**

**Ukrajina**

**Juhozápadný sused**

**Rakúsko**

**Severný sused**

**Česko**

**Západný sused**

**Poľsko**

**Východný sused**

**Maďarsko**





## 4. Dopln tabuľky

SEVERNÉ SLOVENSKO		riecky	vodné nádrže
Povrch	nížiny		
Podnebie			
Nerastné bohatstvo			
Priemysel			
Polnohospodárstvo			
Chránené prírodné oblasti			
Mestá			

## VÝCHODNÉ SLOVENSKO

Povrch

nížiny

pohoria

rieky

vodné nádrže

Podnebie

Nerastné bohatstvo

Priemysel

Poľnohospodárstvo

Chránené prírodné oblasti

Mestá



## STREDNÉ SLOVENSKO

**Povrch** nížiny

pohoria

rieky

vodné nádrže

**Podnebie**

**Nerastné bohatstvo**

**Priemysel**

**Poľnohospodárstvo**

**Chránené prírodné oblasti**

**Mestá**



## JUHOZÁPADNÉ SLOVENSKO

Povrch nížiny

pohoria

Podnebie

Nerastné bohatstvo

Priemysel

Poľnohospodárstvo

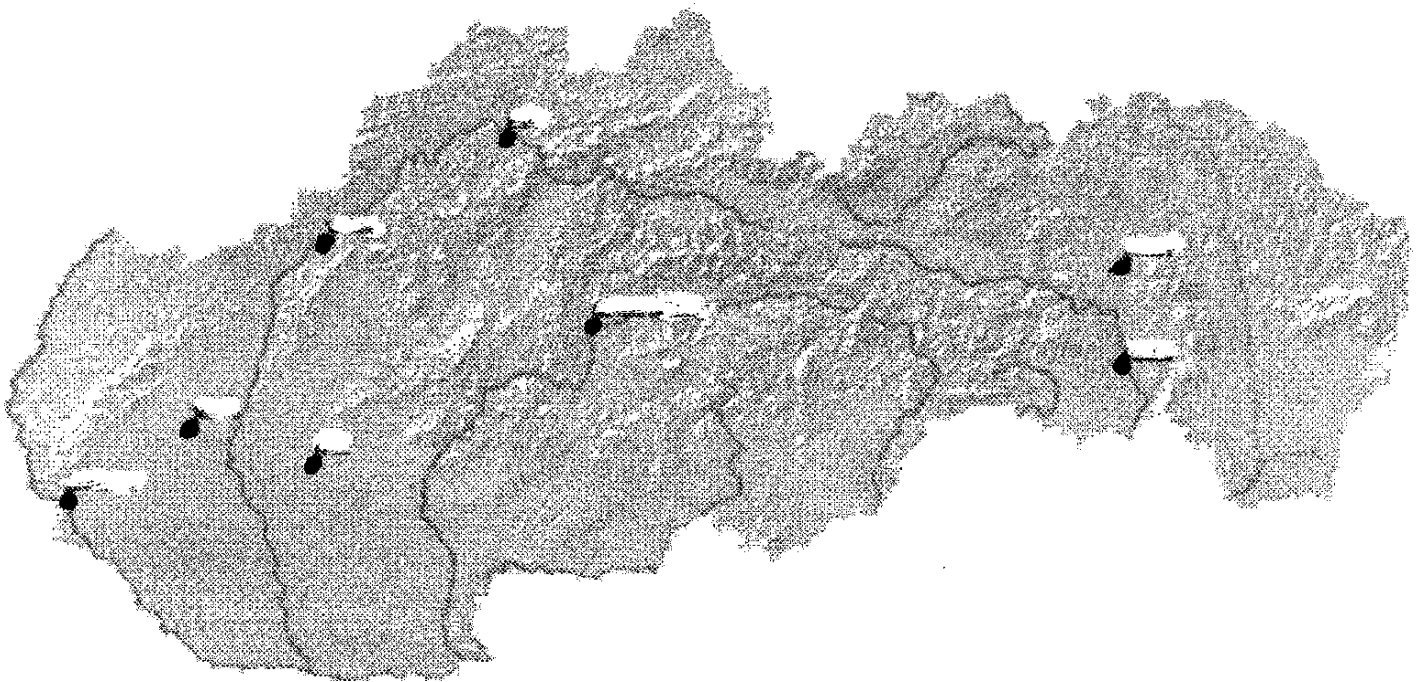
Chránené prírodné oblasti

Mestá

rieky

vodné nádrže

**5. Priradiť názov mesta k správnej bodke na mape. Pomôž si slovami:  
Košice, Bratislava, Banská Bystrica, Prešov, Trnava, Žilina, Nitra, Trenčín**



## POPIS AKTIVITY

### Úloha číslo 2

Názov úlohy	Poznáš Bratislavu?
Učivo predmetu 1	Opakovanie a upevnenie učiva o Slovensku
Inovované didaktické pomôcky	Pracovný list
Názov prílohy	Bratislava
Popis úlohy	Učiteľ rozdá pracovné listy žiakom, vyzve na pozorné prečítanie zadania a sebahodnotenie po vypracovaní pracovného listu.

## Prílohy

### Príloha k úlohe 2

**1. Napíš celým slovom, čo je na obrázku. Pomôž si skratkami.  
UK, SND nová budova, SND stará budova, budova sl. rozhlasu, SNG, budova NR  
SR**







## 2. Spoj slovo z obrázkom tak, ako k sebe patria.

Dóm svätého Martina



Hrad Divín



Hradčany

Bratislavský hrad

Dom svätej Alžbety



Hrad Devín



Pamätník hrdinov SNP



Národná rada SR

Michalská brána

Prezidentský palác



Slavín



### 3. Správne pomenuj Bratislavské mosty

Most Apolo, Starý most, Prístavny most, most Lafranconi, Nový most- SNP



.....



.....



.....



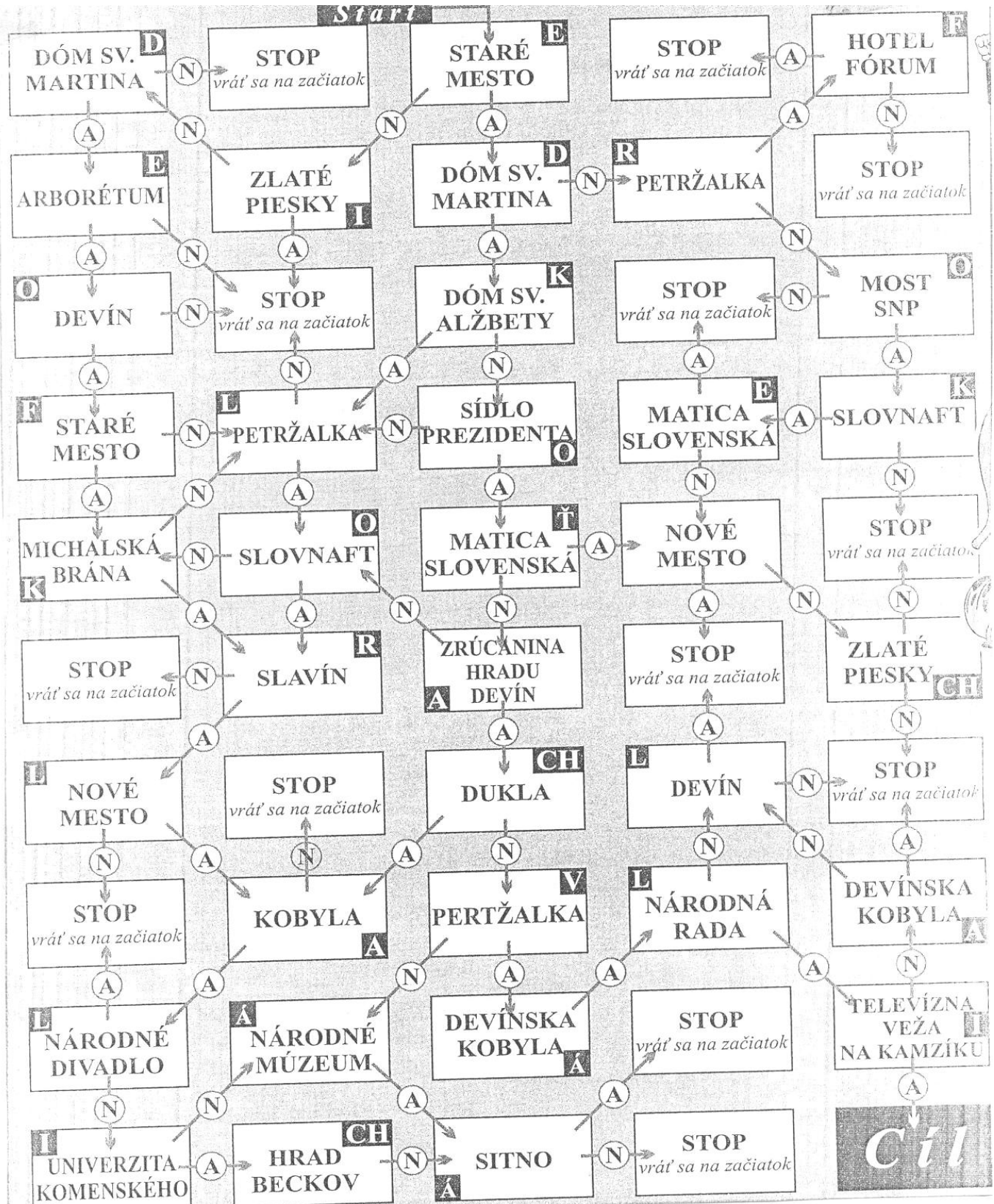
.....



.....

## 4. Zahraj sa s Edkom

V obdĺžnikoch máš vpísané názvy pamiatok, pamätníkov a rekreačných oblastí, ktoré sa podľa Edka nachádzajú v Bratislave a jej okolí. Ak s ním súhlasíš choď po ceste **A – áno**, Ak nie, choď po ceste **N – nie**. Ak sa ani raz nepomylíš dostaneš sa bez problémov k cieľu a z písmeniek v každom obdĺžniku (ktorým prejdeš) po ich zapísaní po poradí do políčok získaš tajničku.












V obdĺžnikoch máš vpísané názvy pamiatok, pamätníkov a rekreačných oblastí, ktoré sa podľa Edka nachádzajú v Bratislave a jej okolí. Ak s ním súhlasíš choď po ceste **A – áno**, Ak nie, choď po ceste **N – nie**. Ak sa ani raz nepomylíš dostaneš sa bez problémov k cieľu a z písmeniek v každom obdĺžniku (ktorým prejdeš) po ich zapísaní po poradí do políček získaš tajničku.





## POPIS AKTIVITY

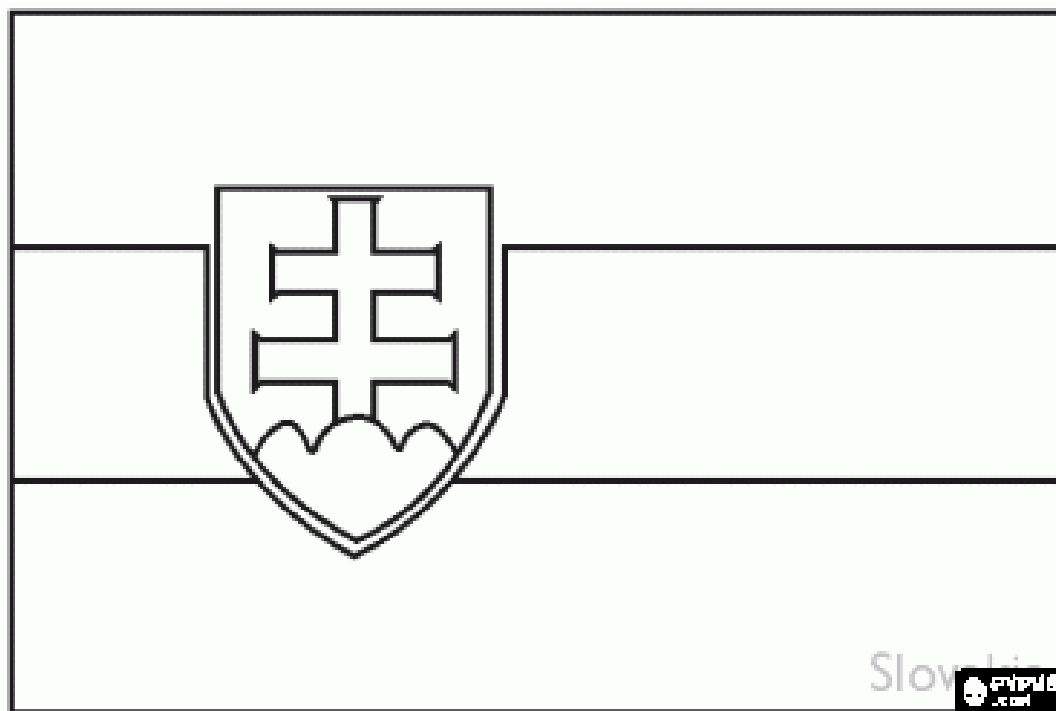
### Úloha číslo 3

Názov úlohy	Časti kostry
Učivo predmetu 1	Opakovanie a upevnenie učiva o kostre
Inovované didaktické pomôcky	Pracovný list
Názov prílohy	Časti kostry
Popis úlohy	Učiteľ rozdá pracovné listy žiakom, vyzve na pozorné prečítanie zadania a sebahodnotenie po vypracovaní pracovného listu.

## Prílohy

### Príloha k úlohe 3

1. Správne vyfarbi štátnu vlajku Slovenska a dopíš názvy zvyšných štátnych symbolov.



- 
- 
- 

## 2. Napíš štátnu hymnu Slovenska.

.....

.....

.....

.....

.....

.....

.....

.....

.....

.....

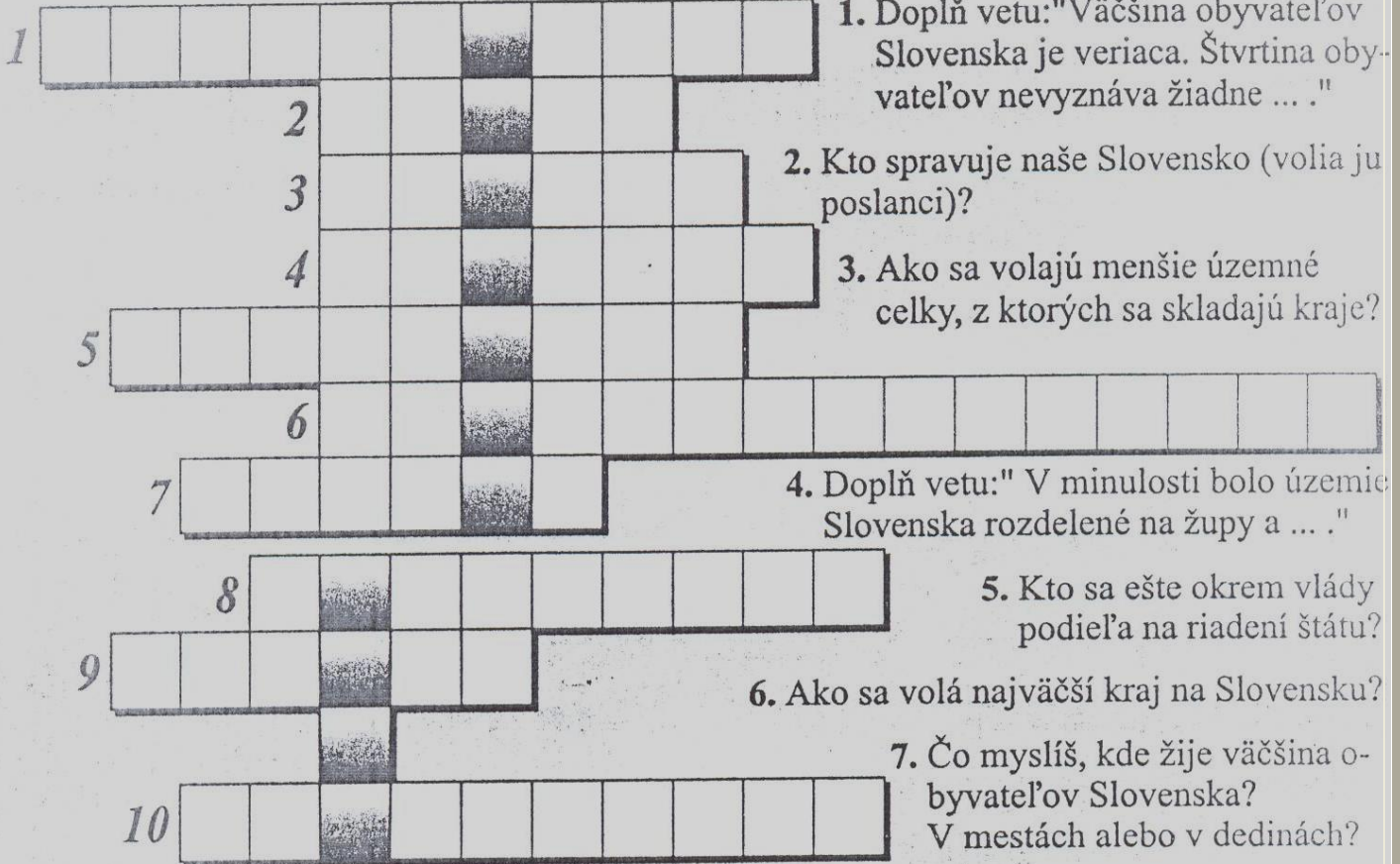
.....

.....

Autorom hymny je ..... a spieva sa  
na melódiu ľudovej piesne .....



**Chrobáčik Edko vie, že všade tam, kde má byť poriadok, musia platiť zákony. Vieš, kto prijíma zákony aj ústavu u nás? Dozvieš sa to z krížovky.**



1. Dopln vetu: "Väčšina obyvateľov Slovenska je veriaci. Štvrtina obyvateľov nevyznáva žiadne ... ."

2. Kto spravuje naše Slovensko (volia ju poslanci)?

3. Ako sa volajú menšie územné celky, z ktorých sa skladajú kraje?

4. Dopln vetu: "V minulosti bolo územie Slovenska rozdelené na župy a ... ."

5. Kto sa ešte okrem vlády podieľa na riadení štátu?

6. Ako sa volá najväčší kraj na Slovensku?

7. Čo myslíš, kde žije väčšina obyvateľov Slovenska? V mestách alebo v dedinách?

8. Ako sa volá kraj, ktorý má zo všetkých ôsmich najviac obyvateľov?

9. Ako sa volá naše najstaršie mesto?

10. Ako sa volá naše najväčšie mesto?



**V zápisníčku Chrobáčika Edka sa objavilo pár dátumov. Čím sú významné?**

1. január

.....  
5. júl

.....  
29. august

.....  
1. september



**Na Slovensku žijú rôzne národy, národnostné menšiny a etniká. Poprehadzuj písmenká a vyriešiš hádanku.**

**Pomocné slová: CILOSLÁV, SÍRINI, MOVIRÓ, SEČI, CILIAPO, MICEN, JINUKRACI**

## ZOZNAM ZDROJOV

### Textový materiál

Učebnica - Vlastiveda pre 6.ročník ŠZŠ, Bratislava, Expol Pedagogika, spol.s.r.o , 2006, ISBN 80-8091-013-8

Vlastiveda pracovný zošit pre 6.ročník ŠZŠ, Bratislava, Expol Pedagogika, spol. s.r.o , 2011, ISBN 978-80-8091-227-7

Kundrová, Antónia, Vlastivedné hádanky, Vranov nad Topľou, Kopček, ISBN 80-967914-2-7

### Obrazový materiál

http: [www.images.google.sk](http://www.images.google.sk)